

令和6年度入学者選抜学力検査問題

社 会

(5 時間目 50 分)

注 意

- 1 問題用紙と解答用紙の両方の決められた欄に，受検番号と氏名を記入しなさい。
- 2 問題用紙は開始の合図があるまで開いてはいけません。
- 3 問題は1ページから6ページまであり，これとは別に解答用紙が1枚あります。
- 4 答えは，すべて解答用紙に記入しなさい。

受検番号		氏 名	
------	--	-----	--

1 次は、「世界のすがたと人々の暮らし」について、地図と図、写真、表をもとに、生徒がそれぞれのテーマで調べた内容の一部である。これらを見て、(1)～(5)の問いに答えなさい。



図1 地図の範囲の模式図

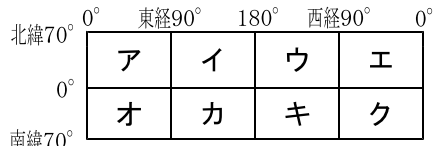


図2 Y州に見られる国境線の一部

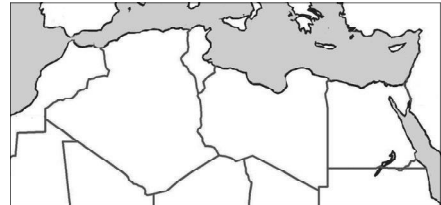


写真 A国に見られる住居

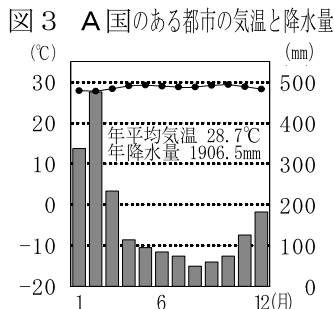


表 B国と日本の比較(2019年)

項目	国	B国	日本
① 陸地面積 (万ha)		91 474	3 645
② 農地面積 (万ha)		40 581	500
③ 穀物生産量 (万t)		42 154	1 183

(図3, 表は「データブック オブ・ザ・ワールド2023年版」などから作成)

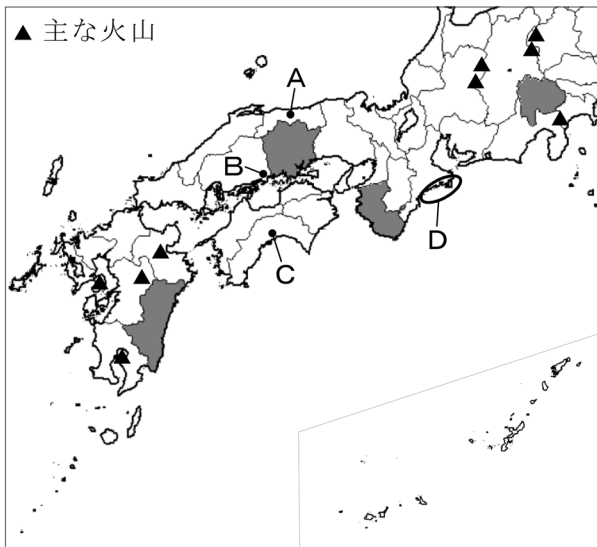
生徒が調べた内容の一部

<p>テーマ1 地球のすがた</p> <p>私たちが暮らしている地球には、六大陸と三大洋があります。地図のX大陸は、図1では あ の範囲にあり、インド洋と太平洋に面しています。</p>
<p>テーマ2 さまざまな国境線</p> <p>図2でY州に直線的な国境が多く見られるのは、植民地支配した国々が緯線や経線などをもとにして決めたからです。その結果、 い 国境線となり、紛争となった国があります。</p>
<p>テーマ3 自然環境に適応した伝統的な住居</p> <p>世界には、自然環境に適応した伝統的な住居があります。地図のA国では、写真のように床を う し、 え ように工夫しているところもあります。</p>
<p>テーマ4 農業の地域的特色</p> <p>世界には、さまざまな農業の特色が見られます。表から、B国は、日本よりも陸地面積に占める お ことや、農地面積1ha当たりの か ことが分かります。</p>

- 地図のX大陸の名称を書きなさい。
- テーマ1の **あ** にあてはまる範囲を、図1のA～クから一つ選んで記号を書きなさい。
- テーマ2の **い** に入る適切な内容を、次の語を用いて書きなさい。〔民族〕
- テーマ3の **う** にあてはまる語と **え** に入る適切な内容の正しい組み合わせを、写真と図3から読みとり、A～エから一つ選んで記号を書きなさい。
 A う 低く え 住居の熱が地面に伝わらない I う 低く え 湿気をやわらげる
 U う 高く え 住居の熱が地面に伝わらない E う 高く え 湿気をやわらげる
- テーマ4の **お** と **か** に入る適切な内容を、それぞれ書きなさい。ただし、**お** は表の①と②、**か** は表の②と③から読みとり書きなさい。

2 次は、日本の地域的特色について、人口、自然環境、産業の面から、生徒が調べるために、準備した地図とメモ、図、表である。これらを見て、(1)～(5)の問いに答えなさい。

地図



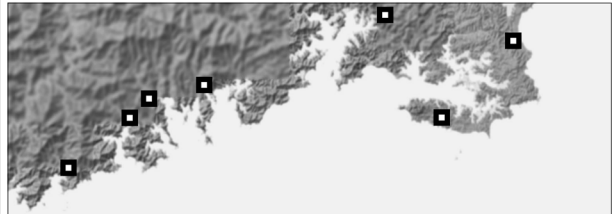
メモ 1

火山は、噴火により大きな被害を出す一方で、地下にある蒸気を利用した 発電や、美しい景観、温泉などの恵みをもたらしている。

メモ 2

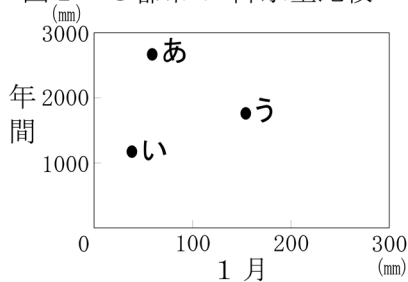
図 2 の の場所には、かつてここで発生した、共通の自然災害に関することを記した石碑が建てられている。

図 2 地図の D の範囲を拡大した一部



(国土地理院「地理院地図」から作成)

図 1 3 都市の*降水量比較



*1991年から2020年までの平均値
(気象庁資料から作成)

表 5 県の比較(2020年)

項目 県	山地の 割合(%)	人口密度 (人/km ²)	耕地面積(百ha)			ぶどうの収 穫量(百t)	豚の飼育 数(百頭)
			田	*畑	樹園地		
ア	81.1	195.4	93	22	202	13	13
イ	73.2	138.4	349	252	40	15	7 969
ウ	68.8	265.6	500	94	35	139	427
エ	85.5	181.5	77	48	100	350	165
オ	58.0	82.5	1 287	118	22	21	2 785

*樹園地・牧草地以外の畑
(「データでみる県勢2022年版」などから作成)

- (1) 九州地方にある県のうち、人口が最も多い県の県庁所在地名を書きなさい。
- (2) 図 1 のあ～うは、地図の A～C のいずれかの都市の降水量を示している。あが示す都市を、A～C から一つ選んで記号を書きなさい。
- (3) メモ 1 の にあてはまる発電方法の名称を書きなさい。
- (4) 次は、メモ 2 と図 2 をもとに生徒がまとめたものである。

図 2 の地域は、リアス海岸となっており、 という地形的特色がある。そのため が発生した際に被害が大きくなりやすく、石碑の中には、 の到達点に建てられたものや避難行動について記されたものがある。

- ① に入る適切な内容を、次の語を用いて書きなさい。〔海岸線〕
 - ② にあてはまる語を書きなさい。ただし、 には同じ語が入る。
- (5) 表のア～オは、地図の で示した 4 県と秋田県のいずれかである。イとエにあてはまる県名をそれぞれ書きなさい。

3 次のカードは、原始から現代までの歴史の流れについて、生徒が時代区分ごとに、それぞれの時代を象徴する動きに注目してまとめたものの一環である。これらと年表、地図、図を見て、(1)～(13)の問いに答えなさい。

I 原始・古代	II 中世	III 近世	IV 近代・現代
<p>◇狩りや採集の生活から農耕の生活へ 大陸から⑧稲作が伝わり、人々は水田の近くにむらをつくった。</p> <p>写真1 稲を収穫するための道具</p> <p>◇天皇を中心とした国づくり ⑨中国や朝鮮半島の国々に学びながら、国のしくみを整えた。</p> <p>◇平城京から平安京へ 混乱した政治を立て直すため、桓武天皇は都を移すとともに、政治改革を推し進めた。</p> <p>注目したポイント1 「朝廷の支配の拡大」 桓武天皇の時代、朝廷は、坂上田村麻呂を中心とする大軍を送り、あ。</p>	<p>◇武士の登場と支配の広まり 武士団が台頭し、武家政権が成立した。</p> <p>注目したポイント2 「北条政子の言葉」 後鳥羽上皇が挙兵すると、「頼朝公の御恩は山よりも高く海よりも深い」と御家人に訴えかけた。</p> <p>◇民衆の成長 都市や⑩農村における自治的な組織が成立した。</p> <p>資料 正長の土一揆について記した記録 農民たちが暴動を起こした。徳政だと言い立て、酒屋・土倉などをおそい、質入れた物品などをうばいとった。（「大乗院日記目録」から部分要約）</p> <p>◇社会の変動 ⑪応仁の乱の後、支配の仕組みが変化した。</p>	<p>◇ヨーロッパ人の来航と全国統一 ⑫種子島に流れ着いたポルトガル人によって、わが国に鉄砲が伝わり、戦い方に変化が生じた。</p> <p>注目したポイント3 「天正遣欧使節」 キリシタン大名は、南蛮貿易の中心地となっていたいから4人の少年をヨーロッパに派遣した。</p> <p>◇幕藩体制の成立と文化の発展 社会が安定し、⑬上方を中心に町人文化が栄え、図1のような作品が生み出された。</p> <p>◇産業の発達 ⑭全国の米の収穫高が増加するとともに、各地で特産物の生産が盛んになるなど、農業の新しい動きが見られた。</p> <p>図1 風神雷神図屏風(部分)</p>	<p>◇近代国家の形成 欧米との⑮対等な外交関係の樹立を目指した。</p> <p>注目したポイント4 写真2 岩倉使節団 不平等条約改正交渉にあたる一方、先進国の情勢を詳しく調査し、わが国の近代化に貢献した。</p> <p>◇経済・政治の混乱と第二次世界大戦 世界恐慌は、わが国の経済に深刻な影響を及ぼした。その混乱の中、軍部が台頭し、う。</p> <p>◇わが国の民主化と再建 ⑯終戦後のGHQによる占領を経て、わが国は独立を回復し、その後、国際社会に復帰した。</p>

- (1) 下線部⑧に関して、この時代に使用されていたと考えられる写真1の道具の名称を書きなさい。
- (2) 下線部⑨に関して、次の**X**に入る適切な内容を、次の語を用いて書きなさい。〔家柄 才能〕
推古天皇の時代に定められた冠位十二階の制度は、**X**を役人として取り立てることを目的としたものである。

- (3) **あ**に入る適切な内容を、一つ選んで記号を書きなさい。
ア 源義経をかくまう奥州藤原氏を滅ぼした イ 東北地方に拠点を置く蝦夷を攻撃した
ウ 関東地方で起きた平将門の乱を平定した エ 百済に協力して高句麗や新羅と戦った

- (4) 注目したポイント2のできごとが起こった時期を、年表の⑦～⑩から一つ選んで記号を書きなさい。

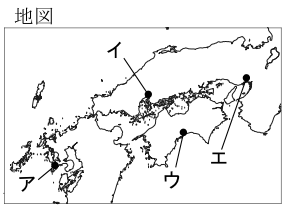
世紀	主なできごと
12	平清盛が大政大臣となる
13	六波羅探題が設置される
14	文永の役が起こる
	建武の新政が始まる
	南北朝が統一される

- (5) 下線部⑩に関して、農民たちが資料に見られる行動をとった目的を、資料の下線部に着目して書きなさい。
- (6) 下線部⑪に関して、次の**Y**、**Z**にあてはまる語の組み合わせとして正しいものを、一つ選んで記号を書きなさい。

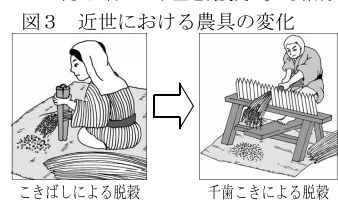
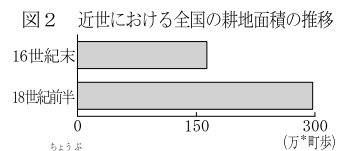
室町幕府の影響力が**Y**、社会全体に**Z**の風潮が広がる中、地方では、戦国大名が実力を伸ばした。

- ア Y 強まり Z 下剋上 イ Y 強まり Z 尊王攘夷
ウ Y 弱まり Z 下剋上 エ Y 弱まり Z 尊王攘夷

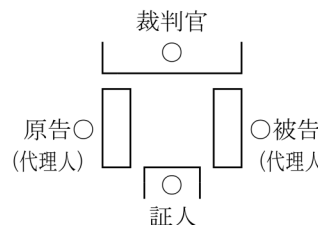
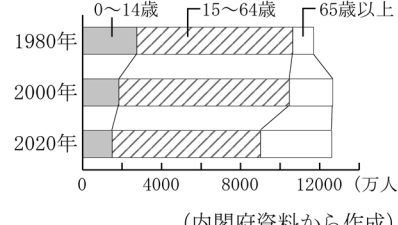
- (7) 下線部⑫のころに起こったできごとを、一つ選んで記号を書きなさい。
ア レーニンがロシア革命を指導した イ ルソーが社会契約説を唱えた
ウ ナポレオンが皇帝の地位について エ ルターが宗教改革をはじめた
- (8) **い**の位置を、地図の**ア**～**エ**から一つ選んで記号を書きなさい。
- (9) 下線部⑬のころに活躍した人物を、一つ選んで記号を書きなさい。
ア 兼好法師 イ 井原西鶴 ウ 観阿弥 エ 横山大観
- (10) 下線部⑭の理由を、図2と図3を参考に、次の語を用いて書きなさい。〔新田〕



- (11) 下線部⑮に関して、次は写真2の一員として派遣されたある人物についてまとめたものである。この人物名を書きなさい。
・内閣総理大臣となった ・政党を結成した
- (12) **う**に入る適切な内容を、一つ選んで記号を書きなさい。
ア 征韓論が起こった イ 義和団の反乱に出兵した
ウ シベリア出兵を行った エ 五・一五事件が起こった
- (13) 下線部⑯の時期のできごとを、**ア**に続けて年代の古い順に並べ替え、記号を書きなさい。
ア 極東国際軍事裁判の開始 イ 日ソ共同宣言の調印
ウ サンフランシスコ平和条約の締結 エ 日本国憲法の公布

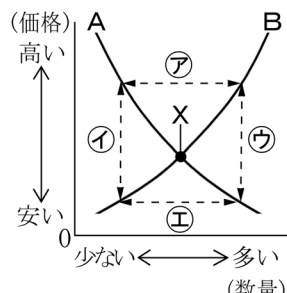


4 次は、それぞれのテーマについて、生徒が調べたことをまとめたものの一部である。これらを見て、(1)～(10)の問いに答えなさい。

テーマ 人権の確かな保障に向けて		
<p>◇<u>㉑</u>基本的人権を守るため、争いや事件を法に基づいて解決する働きを<u>㉒</u>裁判という。</p> <p>◇2000年に導入された<u>㉓</u>介護保険制度により、必要となった時に介護サービスが受けられる。</p>		
<p>資料1 日本国憲法第13条</p> <div style="border: 1px solid black; padding: 5px; margin-top: 5px;"> <p>すべて国民は、Pとして尊重される。生命、自由及び幸福追求に対する国民の権利については、公共の福祉に反しない限り、立法その他の国政の上で、最大の尊重を必要とする。</p> </div>	<p>図1 ある裁判の法廷の様子</p> 	<p>図2 年齢階級別人口の推移(日本)</p>  <p style="text-align: right; font-size: small;">(内閣府資料から作成)</p>

- (1) 下線部㉑に関して、資料1の P にあてはまる語を書きなさい。
- (2) 下線部㉒に関して、図1の裁判の説明として正しいものを、一つ選んで記号を書きなさい。
- ア 裁判員が裁判に参加する
イ 犯罪行為の有罪・無罪を決める
ウ 私人どうしの争いを裁く
エ 裁判官を辞めさせるか判断する
- (3) 次は、下線部㉓に関して、図2をもとに生徒が考えたものである。 Q に入る適切な内容を、次の語を用いて書きなさい。 [割合]

介護保険制度が導入された背景の一つとして、総人口に占める Q ことにともない、介護を必要とする人が増えていることが考えられる。

テーマ 市場経済のしくみと金融について	
<p>◇消費者が安心して財やサービスを購入できるよう、さまざまな<u>㉔</u>法や制度が設けられている。</p> <p>◇市場価格が上下することで、<u>㉕</u>消費者が欲しい商品は多く、不要な商品は少なく生産される。</p> <p>◇一般の銀行とは別に、<u>㉖</u>日本銀行は特別な働きをする。</p> <p>資料2 消費者問題の事例</p> <div style="border: 1px solid black; padding: 5px; margin-top: 5px;"> <p>レストランで注文した飲み物に混入していた異物により、のどにけがをして病院で診察を受けた。</p> </div>	<p>図3 需要・供給と価格の関係</p>  <p style="font-size: small;">※AとBは、それぞれ需要曲線と供給曲線のいずれかである。</p> <p style="font-size: small;">※Xが示す価格は、市場価格のうち、需要量と供給量が一致するときのものである。</p>

- (4) 下線部㉔に関して、資料2の事例の解決に関わるものを、一つ選んで記号を書きなさい。
- ア 環境基本法
イ 製造物責任法
ウ 消費者契約法
エ クーリング・オフ
- (5) 下線部㉕に関わる図3についての問題である。
- ① Xが示す価格を何というか、書きなさい。
- ② 売れ残る量を示すものを、㉗～㉚から一つ選んで記号を書きなさい。
- (6) 下線部㉖の役割を、一つ選んで記号を書きなさい。
- ア 株式の発行
イ 国債の発行
ウ 紙幣の発行
エ 社債の発行

テーマ 私たちの生活と財政について

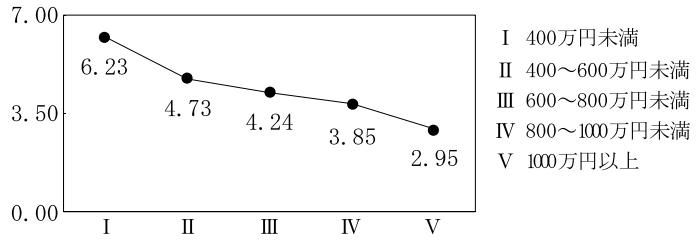
◇政府の収入は、原則的に、国民が義務として納める⑧税金によって支えられている。

メモ

- ・税金を納める人とその税金を負担する人が同じ税
- ・国に納める税

◇⑨消費税は、商品の販売やサービスの提供に対して課税される。

図4 所得に占める消費税の割合(2022年)(%)



(「日本生活共同組合連合会 家計・くらしの調査年次報告書 2022」から作成)

(7) 下線部⑧に関して、メモの内容にあたる税を、一つ選んで記号を書きなさい。

- ア 酒税 イ 所得税 ウ 自動車税 エ 固定資産税

(8) 次は、下線部⑨に関して、図4から読みとれることをもとに、生徒がまとめたものである。

R に入る適切な内容を、次の語を用いて書きなさい。 [所得 税率]

所得が低い人ほど、所得に占める消費税の割合が高くなる傾向がみられるのは、消費税に **R** という特徴があるためである。

テーマ 持続可能な地球社会の実現に向けて

◇国際連合では、⑩さまざまな機関が人々の暮らしを向上させるために活動している。

◇国際連合で採択された持続可能な開発目標 (SDGs) の達成を目指し、国際社会や日本においても、⑪さまざまな取り組みが行われている。

表 4 各国の比較(2018年)

国	一人当たりのGDP(ドル)	*識字率(%)
インドネシア	3 893	95.7
ケニア	1 710	81.5
ネパール	991	67.9
アフガニスタン	552	43.0

*15歳以上人口に対する、日常生活の簡単な内容についての読み書きができる人口の割合

(「世界国勢図会2021/22年版」などから作成)

資料3 秋田県の施策の一部

- 家庭や事業所における3Rを推進している。認定されたりリサイクル製品には、右のマークが付いている。
- プラスチックごみの削減や、海岸漂着物の回収を推進している。

(秋田県生活環境部資料などから作成)

(9) 下線部⑩の一つであるWHOの活動を、一つ選んで記号を書きなさい。

- ア 貿易の自由化 イ 世界遺産の登録 ウ 感染症の予防 エ 停戦や選挙の監視

(10) 下線部⑪に関する問題である。

① 次は、表をもとに生徒がまとめたものである。 **S** に入る適切な内容を書きなさい。

教育に着目すると、一人当たりのGDPが低い国ほど、 **S** 傾向がある。すべての人が学ぶ機会を得ることができるように、世界の国々が協力し合う必要があると思う。

② 資料3の施策で秋田県が目指している社会を、一つ選んで記号を書きなさい。

- ア 男女共同参画社会 イ グローバル社会 ウ 多文化社会 エ 循環型社会